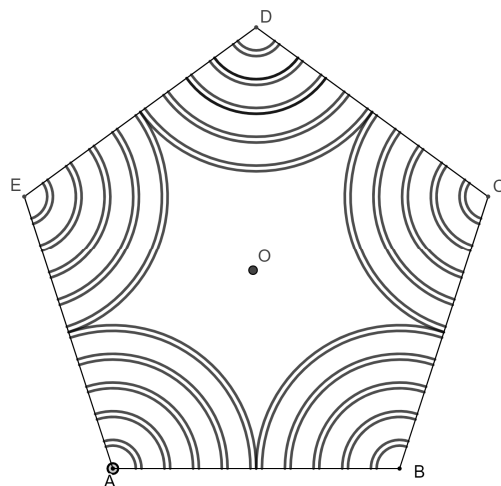




Figure 9

Tracer le pentagone ABCDE de centre O.

Tracer les cercles de centre A et de rayons : 0,8 cm, 1 cm, 1,8 cm, 2 cm, 2,8 cm, 3 cm, 3,8 cm, 4 cm, 4,8 cm et 5 cm.



Tracer les cercles de centre o et de rayons : 0,8 cm, 1 cm, 1,8 cm, 2 cm, 2,8 cm et 3 cm.



p