

Construire un parallélogramme

Construire un parallélogramme ABCD avec un quadrillage

Construire le point C tel que ABCD soit un parallélogramme :

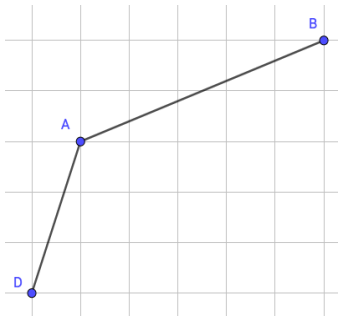
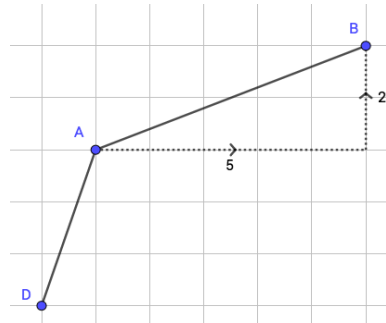
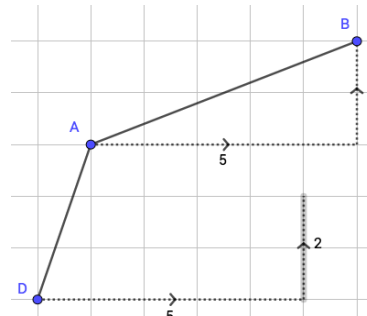


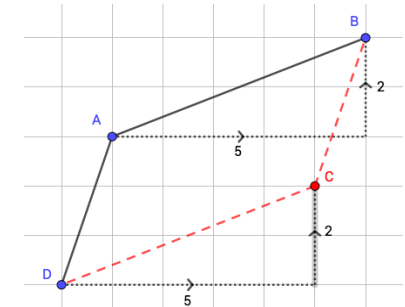
Figure de départ



Trouver le trajet pour aller de A à B



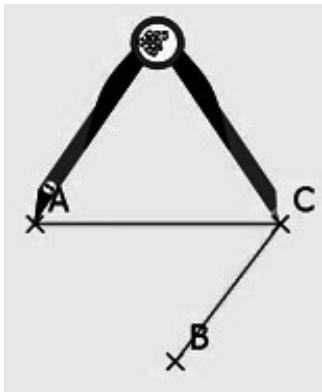
Reproduire le même trajet à partir de D



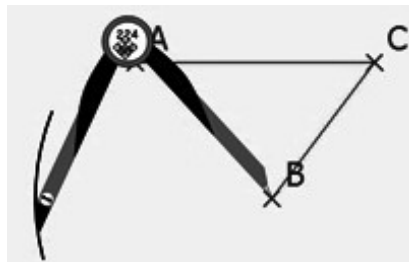
Compléter le parallélogramme

Construire un parallélogramme ACBD sans quadrillage

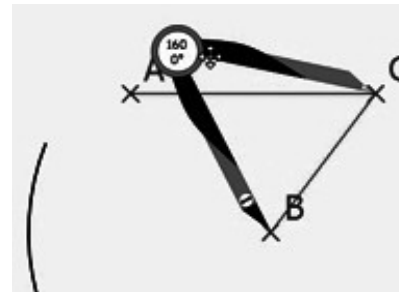
Construire le point D tel que ACBD soit un parallélogramme :



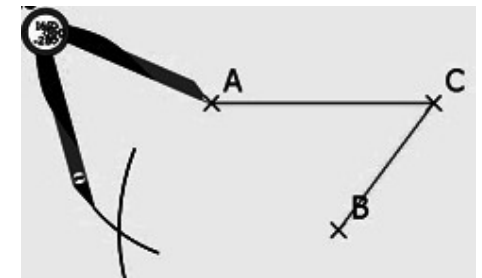
Mesurer au compas l'écart AC



Reporter cette longueur AC à partir de B



Mesurer au compas l'écart BC



Reporter cette longueur BC à partir de A